


Ficha de Trabalho

Data: _____

Nome: _____



1. Observa, pensa e resolve.




5 €



8 €



1 €



2 €

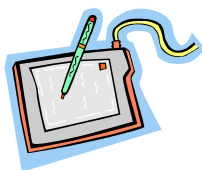
1.1- A Rita comprou uma raqueta e uma mala.
Quanto gastou?

R : _____

2- O Rui queria comprar uma bola e um carro, mas só tem 10 euros.
Quanto lhe falta para poder comprar o que quer?

R: _____

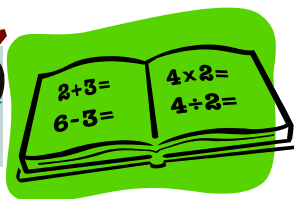
3. Circunda as moedas necessárias para poderes comprar os objectos representados.



90 cêntimos



9 euros



7 euros



50 cêntimos



Ficha de Trabalho

Data: _____

Nome: _____



1-Conta o dinheiro e regista no rectângulo respectivo.



2-Coloca os teus resultados por ordem crescente.